

Grafico della retta e rappresentazione di fenomeni

Soluzioni degli esercizi di dicembre 2010

Nota.

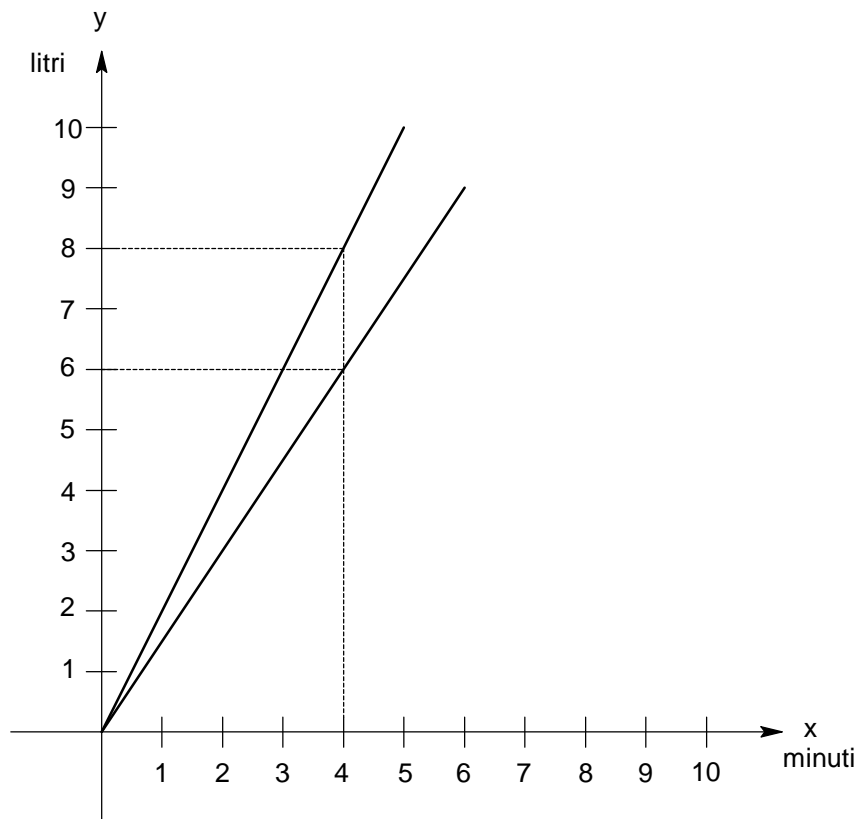
In ogni esercizio:

- rappresentare graficamente i fenomeni individuati;
- eseguire tutti i passaggi matematici per le dimostrazioni (formule, calcoli intermedi e risultati finali);
- definire i coefficienti angolari delle rette;
- definire, per ogni retta, l'intercetta sull'asse delle ordinate
- definire, per ogni retta, l'intercetta sull'asse delle ascisse;
- rispondere alle domande, formulando una risposta semplice e comprensibile.

Esercizio n. 1

Un rubinetto *a* versa acqua in un recipiente A alla velocità di 2 litri al minuto. Un rubinetto *b* versa acqua in un recipiente B alla velocità di 1,5 litri al minuto. Dopo 4 minuti, quanta acqua in più c'è nel recipiente A rispetto a quella contenuta nel recipiente B?

All'inizio dell'esperienza, i due rubinetti vengono aperti contemporaneamente.



Risoluzione

Le velocità di riempimento dei recipienti corrispondono ai coefficienti angolari delle rette.

Quindi:

$$v_a = \frac{2 \text{ litri}}{1 \text{ minuto}} \quad \text{e} \quad m_a = \frac{2}{1} = 2$$

$$v_b = \frac{1,5 \text{ litri}}{1 \text{ minuto}} \quad \text{e} \quad m_a = \frac{1,5}{1} = 1,5$$

Poiché i due recipienti sono inizialmente vuoti, le due rette hanno l'intercetta sull'asse y uguale a zero: $q_a = 0 \text{ litri}$ e $q_b = 0 \text{ litri}$.

Per entrambe le rette, si ricava facilmente che, all'istante $t = 0 \text{ minuti}$, anche l'intercetta sull'asse x è uguale a zero:

$$x_a = -\frac{q_a}{m_a} = -\frac{0}{1,5} = 0 \text{ minuti}$$

$$x_b = -\frac{q_b}{m_b} = -\frac{0}{1,5} = 0 \text{ minuti}$$

Le rette $y = mx + q$ diventano quindi, per $q = 0$, $y = mx$.

Si deduce che passano per l'origine O (0;0).

Calcoliamo qual è la quantità di acqua contenuta nei due recipienti dopo 4 minuti.

Nel recipiente A:

$$y_a = m_a x = \frac{2 \text{ litri}}{1 \text{ minuto}} \cdot 4 \text{ minuti} = 8 \text{ litri}$$

Nel recipiente B:

$$y_b = m_b x = \frac{1,5 \text{ litri}}{1 \text{ minuto}} \cdot 4 \text{ minuti} = 6 \text{ litri}$$

Conclusione: dopo 4 minuti, nel recipiente A ci sono 2 litri di acqua in più rispetto a quanto contenuto nel recipiente B.

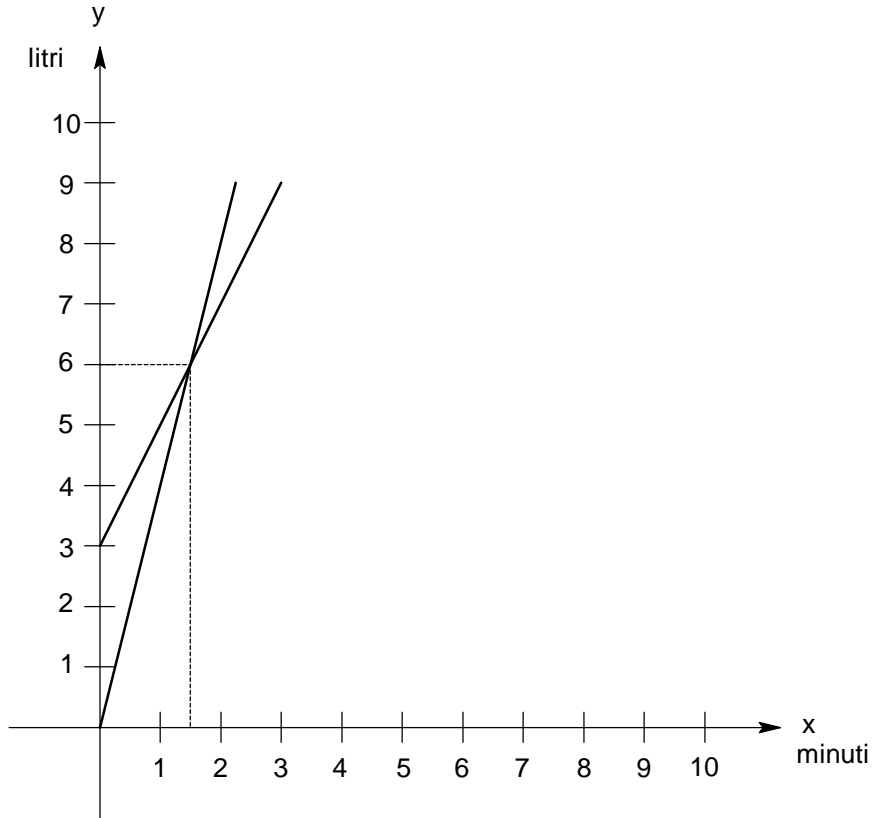
$$y_a - y_b = (8 - 6) \text{ litri} = 2 \text{ litri}$$

Esercizio n. 2

Un rubinetto *a* versa acqua in un recipiente A alla velocità di 4 litri al minuto. Un rubinetto *b* versa acqua in un recipiente B (che inizialmente contiene già 3 litri d'acqua) alla velocità di 2 litri al minuto.

In quale momento ci sarà la stessa quantità di acqua nei due recipienti A e B?

All'inizio dell'esperienza, i due rubinetti vengono aperti contemporaneamente.



Risoluzione

Le velocità di riempimento dei recipienti corrispondono ai coefficienti angolari delle rette.

Quindi:

$$v_a = \frac{4 \text{ litri}}{1 \text{ minuto}} \text{ e } m_a = \frac{4}{1} = 4$$

$$v_b = \frac{2 \text{ litri}}{1 \text{ minuto}} \text{ e } m_b = \frac{2}{1} = 2$$

Poiché solo il recipiente A è inizialmente vuoto, la retta corrispondente ha l'intercetta sull'asse *y* uguale a zero: $q_a = 0 \text{ litri}$. Per la stessa retta, si ricava facilmente che, all'istante $t = 0 \text{ minuti}$, anche l'intercetta sull'asse *x* è uguale a zero:

$$x_a = -\frac{q_a}{m_a} = -\frac{0}{4} = 0 \text{ minuti}$$

La retta $y = mx + q$ diventa quindi, per $q = 0$, $y_a = m_a x$.

Si deduce che essa passa per l'origine O (0;0).

L'equazione della retta è:

$$y_a = \frac{4 \text{ litri}}{1 \text{ minuto}} \cdot x \text{ minuti}$$

Nel caso del recipiente B (che inizialmente contiene già 3 litri d'acqua) si ha che l'intercetta sull'asse y è: $q_b = 3 \text{ litri}$.

L'equazione della retta è:

$$y_b = \frac{2 \text{ litri}}{1 \text{ minuto}} \cdot x \text{ minuti} + 3 \text{ litri}$$

Riducendo, si ottiene:

$$\begin{cases} y_a = 4x \\ y_b = 2x + 3 \end{cases}$$

Calcoliamo in quale momento hanno la stessa quantità d'acqua:

$$\begin{cases} y_a = y_b \\ 4x = 2x + 3 \end{cases} \quad 4x = 2x + 3 \quad 4x - 2x = +3 \quad 2x = 3 \quad x = \frac{3}{2} \text{ minuti}$$

Ciò accade dopo $1m\ 30s$.

Verifichiamo che i due recipienti abbiano proprio la stessa quantità d'acqua.

$$\begin{cases} y_a = \frac{4 \text{ litri}}{1 \text{ minuto}} \cdot \frac{3}{2} \text{ minuto} = 6 \text{ litri} \\ y_b = \frac{2 \text{ litri}}{1 \text{ minuto}} \cdot \frac{3}{2} \text{ minuto} + 3 \text{ litri} = 6 \text{ litri} \end{cases}$$

La retta del recipiente B intercetta l'asse delle ascisse in:

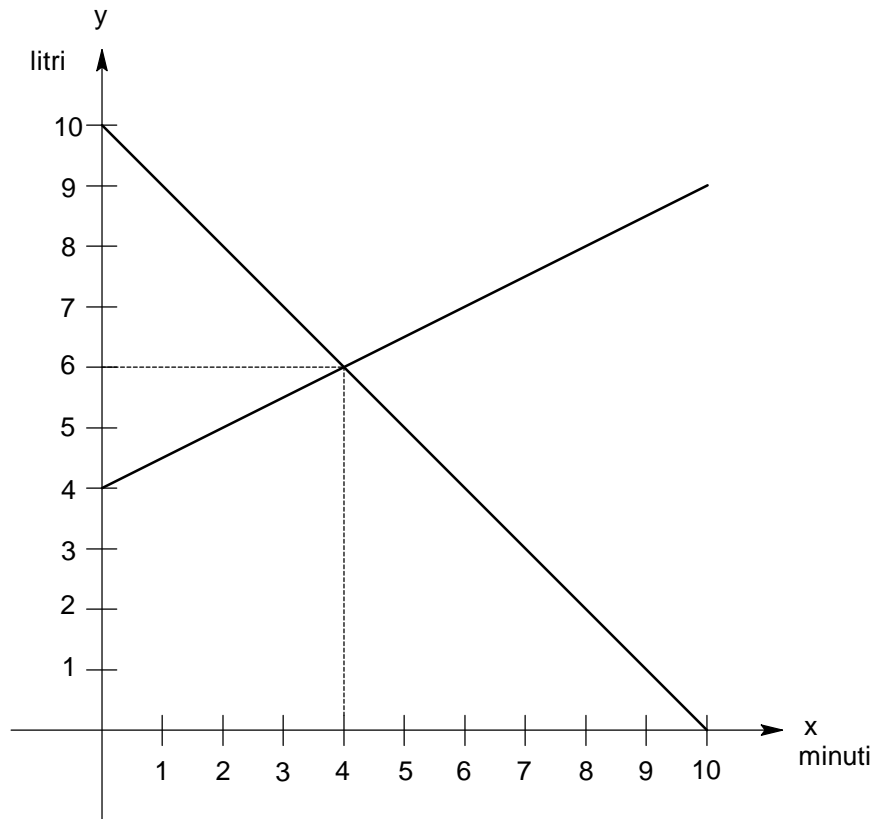
$$x_b = -\frac{q_b}{m_b} = -\frac{3}{2} \text{ minuti}$$

Esercizio n. 3

Un recipiente A contiene 10 litri di acqua: aprendo il rubinetto a, si lascia uscire l'acqua alla velocità di 1 litro al minuto. In un recipiente B (che contiene inizialmente 4 litri di acqua), un rubinetto b versa altra acqua, alla velocità di 0,5 litri al minuto.

In quale momento ci sarà la stessa quantità di acqua nei due recipienti A e B?

All'inizio dell'esperienza, i due rubinetti vengono aperti contemporaneamente.



Risoluzione

Le velocità di svuotamento e di riempimento dei recipienti corrispondono ai coefficienti angolari delle rette.

Quindi:

$$v_a = -\frac{1 \text{ litri}}{1 \text{ minuto}} \text{ e } m_a = -\frac{1}{1} = -1$$
$$v_b = \frac{0,5 \text{ litri}}{1 \text{ minuto}} \text{ e } m_b = \frac{0,5}{1} = \frac{1}{2}$$

Notare che, per il rubinetto *a*, il coefficiente angolare è negativo.

Poiché il recipiente A contiene 10 litri di acqua e il recipiente B contiene inizialmente 4 litri di acqua, le rette corrispondenti hanno le intercette sull'asse y uguale a:

$$\begin{cases} q_a = 10 \text{ litri} \\ q_b = 4 \text{ litri} \end{cases}$$

Le equazioni delle due rette saranno:

$$\begin{cases} y_a = -\frac{1 \text{ litri}}{1 \text{ minuto}} \cdot x \text{ minuti} + 10 \text{ litri} \\ y_b = \frac{1 \text{ litri}}{2 \text{ minuto}} \cdot x \text{ minuti} + 4 \text{ litri} \end{cases}$$

Semplificando, calcoliamo dopo quanto tempo i due recipienti avranno la stessa quantità d'acqua:

$$\begin{cases} y_a = -x + 10 \\ y_b = \frac{1}{2}x + 4 \end{cases} \quad \begin{cases} y_a = y_b \\ -x + 10 = \frac{1}{2}x + 4 \end{cases} \quad \frac{1}{2}x + x = 10 - 4 \quad \frac{3}{2}x = 6 \quad x = 4 \text{ minuti}$$

Ciò accade dopo *4 minuti*.

Verifichiamo che i due recipienti abbiano proprio la stessa quantità d'acqua.

$$\begin{cases} y_a = -\frac{1 \text{ litri}}{1 \text{ minuto}} \cdot 4 \text{ minuti} + 10 \text{ litri} = 6 \text{ litri} \\ y_b = \frac{1 \text{ litri}}{2 \text{ minuto}} \cdot 4 \text{ minuti} + 4 \text{ litri} = 6 \text{ litri} \end{cases}$$

Intercetta sull'asse delle ascisse per il recipiente A.

$$x_a = -\frac{q_a}{m_a} = -\frac{10 \text{ litri}}{-\frac{1 \text{ litro}}{1 \text{ minuto}}} = 10 \text{ minuti}$$

Il recipiente A si svuoterà dopo *10 minuti*.

Intercetta sull'asse delle ascisse per il recipiente B.

$$x_b = -\frac{q_b}{m_b} = -\frac{4 \text{ litri}}{\frac{1 \text{ litro}}{2 \text{ minuto}}} = -8 \text{ minuti}$$

Esercizio n. 4

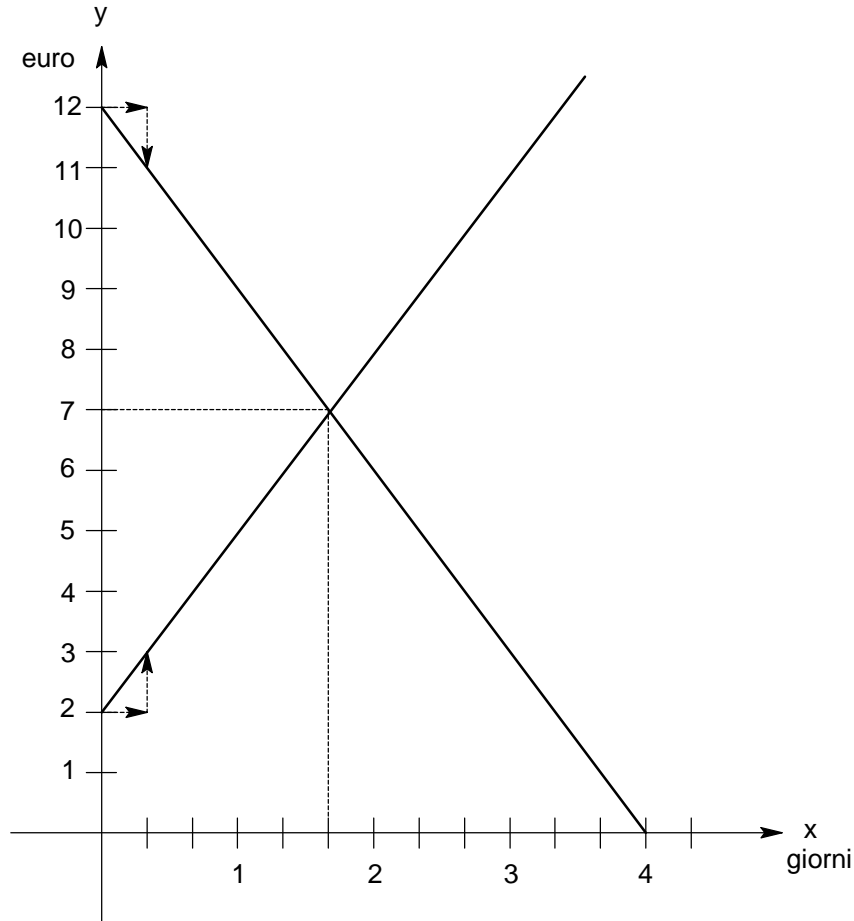
Mario ha in tasca 12 euro e spende 1 euro ogni 8 ore.

Dopo quanti giorni e quante ore rimarrà senza soldi?

Giuseppe ha 2 euro in tasca e, ogni 8 ore, riceve un euro dai suoi genitori.

Dopo quanti giorni e quante ore Giuseppe e Mario avranno la stessa quantità di denaro?

L'esperienza proposta inizia contemporaneamente.



Risoluzione

Mario inizialmente ha in tasca 12 euro, quindi $q_M = 12$ euro.

Giuseppe inizialmente ha in tasca 2 euro, quindi $q_G = 2$ euro.

Queste sono le due intercette, per Mario e per Giuseppe, sull'asse y delle ordinate.

La velocità con cui Mario spende i suoi soldi è:

$$v_M = -\frac{1 \text{ euro}}{8 \text{ ore}} = -\frac{3 \text{ euro}}{1 \text{ giorno}} \quad \text{e} \quad m_M = -\frac{1}{8}$$

Notare che il coefficiente angolare è negativo.

La velocità con cui Giuseppe si mette in tasca altri soldi è:

$$v_G = \frac{1 \text{ euro}}{8 \text{ ore}} = \frac{3 \text{ euro}}{1 \text{ giorno}} \quad \text{e} \quad m_G = \frac{1}{8}$$

Calcoliamo dopo quanto tempo Mario rimarrà senza soldi in tasca.

Si deve calcolare l'intercetta sull'asse x delle ascisse:

$$x_M = -\frac{q_M}{m_M} = -\frac{12 \text{ euro}}{-\frac{1 \text{ euro}}{8 \text{ ore}}} = -12 \text{ euro} \left(-\frac{8 \text{ ore}}{1 \text{ euro}} \right) = 96 \text{ ore}$$

Le 96 ore corrispondono a 4 giorni.

Le equazioni delle due rette saranno:

$$\begin{cases} y_M = -\frac{1 \text{ euro}}{8 \text{ ore}} \cdot x \text{ ore} + 12 \text{ euro} \\ y_G = \frac{1 \text{ euro}}{8 \text{ ore}} \cdot x \text{ ore} + 2 \text{ euro} \end{cases}$$

Semplificando, otteniamo:

$$\begin{cases} y_M = -\frac{1}{8} \cdot x + 12 \\ y_G = \frac{1}{8} \cdot x + 2 \end{cases}$$

Calcoliamo dopo quanto tempo Mario e Giuseppe avranno la stessa cifra in tasca, cioè $y_M = y_G$.

$$\begin{cases} y_M = -\frac{1}{8} \cdot x + 12 \\ y_G = \frac{1}{8} \cdot x + 2 \end{cases} \quad \begin{cases} y_M = y_G \\ \frac{1}{8} \cdot x + 2 = -\frac{1}{8} \cdot x + 12 \end{cases} \quad \frac{1}{8}x + \frac{1}{8}x = 12 - 2 \quad \frac{2}{8}x = 10$$

Cioè:

$$\frac{1}{4}x = 10 \quad \text{ossia: } x = 10 \cdot 4 = 40 \text{ ore}$$

Mario e Giuseppe avranno la stessa cifra in tasca dopo 40 ore, cioè dopo 1 giorno e 16 ore.

La cifra che Mario e Giuseppe avranno in tasca, dopo 40 ore, sarà:

$$\begin{cases} y_M = -\frac{1 \text{ euro}}{8 \text{ ore}} \cdot 40 \text{ ore} + 12 \text{ euro} = (-5 + 12) \text{ euro} = 7 \text{ euro} \\ y_G = \frac{1 \text{ euro}}{8 \text{ ore}} \cdot 40 \text{ ore} + 2 \text{ euro} = (5 + 2) \text{ euro} = 7 \text{ euro} \end{cases}$$